

АВ + ТОК — К + БУР — Р + С = \_\_\_\_\_  
 ТРАП — П + МО — О + ВАЙ = \_\_\_\_\_  
 ТРОПА — ПА + ЛЕЙ + БУС = \_\_\_\_\_  
 САД — Д + МОР — Р + ЛЁТ = \_\_\_\_\_



Реши буквенные примеры.



Какая чаша весов перевесит?  
Поставь знак >, < или =.




1 кг







2 кг



3 кг




4 кг



Какие продукты нужны для приготовления борща? Найди и обведи названия этих продуктов.

м	о	р	к	о	в	ь	л	к	л	м
о	к	и	с	к	а	п	у	с	т	а
л	о	с	в	н	у	ф	к	у	к	н
о	р	з	ё	л	е	н	ь	о	п	р
к	о	ю	к	п	т	с	о	х	с	с
о	с	а	л	о	м	о	н	т	х	ч
б	в	г	а	р	с	м	я	с	о	ш
к	а	р	т	о	ф	е	л	ь	ц	я

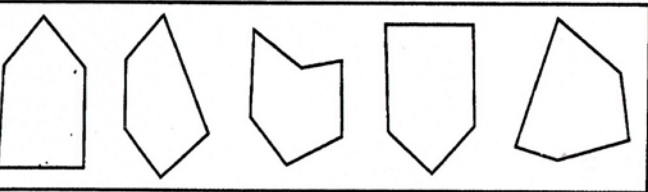

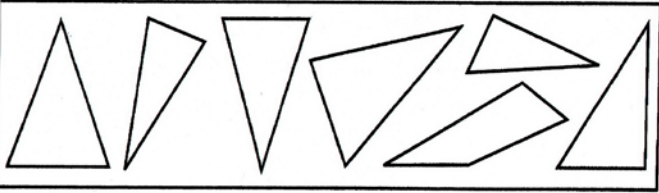


- 1- тёмно-зелёный
- 2- салатный
- 3- красный
- 4- голубой
- 5- синий

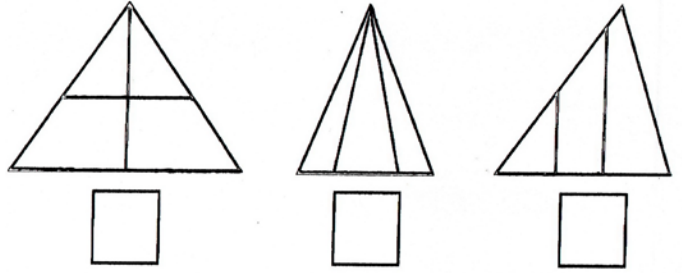
- 6- жёлтый
- 7- оранжевый
- 8- малиновый
- 9- фиолетовый



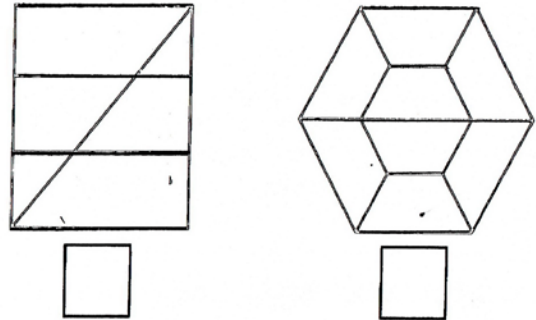
Какая фигура лишняя в каждом ряду?



Сосчитай все треугольники, запиши их количество.



Сосчитай все четырёхугольники, запиши их количество.



Поставь знаки так, чтобы примеры были решены правильно.


$$5 \square 4 \square 3 \square 2 \square 1 = 5$$

$$5 \square 4 \square 3 \square 2 \square 1 = 7$$

$$5 \square 4 \square 3 \square 2 \square 1 = 9$$

$$5 \square 4 \square 3 \square 2 \square 1 = 1$$

$$5 \square 4 \square 3 \square 2 \square 1 = 3$$



Покажи стрелками путь к центру. Сумма чисел, через которые проходит путь, должна равняться числу в центре.

