







Задача (1 класс)

Расшифруй примеры и запиши слово (все числа от 1 до 6)

					
		1			
В	А	Э	И	Р	К

$\bigcirc + \bigcirc = \square$ $\square + \square = \square$

$\square + \bigcirc = \triangle$ $\square + \square = \square$

$\triangle + \bigcirc = \diamond$ $\square + \square = \square$

$\square + \triangle = \parallel$ $\square + \square = \square$







$\diamond + \square = \text{trapezoid}$ $\square + \square = \square$

Слово:

1	2	3	4	5	6

Задача (1 класс)

Расшифруй примеры и запиши слово (все числа от 1 до 6)

					
		1			
В	А	Э	И	Р	К

$\bigcirc + \bigcirc = \square$ $\square + \square = \square$

$\square + \bigcirc = \triangle$ $\square + \square = \square$

$\triangle + \bigcirc = \diamond$ $\square + \square = \square$

$\square + \triangle = \parallel$ $\square + \square = \square$







$\diamond + \square = \text{trapezoid}$ $\square + \square = \square$

Слово:

1	2	3	4	5	6

Задача (1 класс)

Расшифруй примеры и запиши слово (все числа от 1 до 6)

					
		1			
В	А	Э	И	Р	К

$\bigcirc + \bigcirc = \square$ $\square + \square = \square$

$\square + \bigcirc = \triangle$ $\square + \square = \square$

$\triangle + \bigcirc = \diamond$ $\square + \square = \square$

$\square + \triangle = \parallel$ $\square + \square = \square$







$\diamond + \square = \text{trapezoid}$ $\square + \square = \square$

Слово:

1	2	3	4	5	6

Задача (1 класс)

Расшифруй примеры и запиши слово (все числа от 1 до 6)

					
		1			
В	А	Э	И	Р	К

$\bigcirc + \bigcirc = \square$ $\square + \square = \square$

$\square + \bigcirc = \triangle$ $\square + \square = \square$

$\triangle + \bigcirc = \diamond$ $\square + \square = \square$

$\square + \triangle = \parallel$ $\square + \square = \square$

$\diamond + \square = \text{trapezoid}$ $\square + \square = \square$

Слово:

1	2	3	4	5	6

Задача (2 класс)

Расшифруй примеры и запиши слово (все числа меньше 10)

六	七	一	五	二	九	三	八	四
								4
Е	Н	У	Н	Р	Е	А	И	В

二 + 二 = 四 □ + □ = □

四 + 二 = 六 □ + □ = □

三 + 三 = 六 □ + □ = □

四 + 四 = 八 □ + □ = □

六 + 一 = 七 □ + □ = □

一 + 八 = 九 □ + □ = □

二 + 三 = 五 □ + □ = □

五 + 一 = 六

Слово:

□	□	□	□	□	□	□	□	□
1	2	3	4	5	6	7	8	9

Задача (2 класс)

Расшифруй примеры и запиши слово (все числа меньше 10)

六	七	一	五	二	九	三	八	四
								4
Е	Н	У	Н	Р	Е	А	И	В

二 + 二 = 四 □ + □ = □

四 + 二 = 六 □ + □ = □

三 + 三 = 六 □ + □ = □

四 + 四 = 八 □ + □ = □

六 + 一 = 七 □ + □ = □

一 + 八 = 九 □ + □ = □

二 + 三 = 五 □ + □ = □

五 + 一 = 六

Слово:

□	□	□	□	□	□	□	□	□
1	2	3	4	5	6	7	8	9

Задача (2 класс)

Расшифруй примеры и запиши слово (все числа меньше 10)

六	七	一	五	二	九	三	八	四
								4
Е	Н	У	Н	Р	Е	А	И	В

二 + 二 = 四 □ + □ = □

四 + 二 = 六 □ + □ = □

三 + 三 = 六 □ + □ = □

四 + 四 = 八 □ + □ = □

六 + 一 = 七 □ + □ = □

一 + 八 = 九 □ + □ = □

Задача (2 класс)

Расшифруй примеры и запиши слово (все числа меньше 10)

六	七	一	五	二	九	三	八	四
								4
Е	Н	У	Н	Р	Е	А	И	В

二 + 二 = 四 □ + □ = □

四 + 二 = 六 □ + □ = □

三 + 三 = 六 □ + □ = □

四 + 四 = 八 □ + □ = □

六 + 一 = 七 □ + □ = □

一 + 八 = 九 □ + □ = □

$二 + 三 = 五$ + =

$五 + 一 = 六$

Слово:

1	2	3	4	5	6	7	8	9	

Задача (3 класс)

Расшифруй примеры и собери слово (все числа от 0 до 10)

ㄩ	ㄨ	ㄜ	ㄑ	ㄒ	ㄝ	ㄚ	ㄒ	ㄣ	ㄨ
									8
И	Р	О	А	«	Т	Е	»	Г	К

$ㄨ + ㄨ = ㄨ$ + =

$ㄩ + ㄩ = ㄨ$ + =

$ㄜ + ㄜ = ㄩ + ㄨ$ + = +

$ㄚ - ㄒ = ㄝ$ - =

$ㄨ + ㄒ = ㄑ$ + =

$ㄝ + ㄣ = ㄑ$ + =

$ㄝ + ㄨ = ㄒ$ + =

$ㄣ + ㄩ = ㄜ$ + =

$ㄜ + ㄩ = ㄚ$ + =

Слово:

1	2	3	4	5	6	7	8	9	10	

Задача (3 класс)

Расшифруй примеры и собери слово (все числа от 0 до 10)

ㄩ	ㄨ	ㄜ	ㄑ	ㄒ	ㄝ	ㄚ	ㄒ	ㄣ	ㄨ
									8
И	Р	О	А	«	Т	Е	»	Г	К

$ㄨ + ㄨ = ㄨ$ + =

$ㄩ + ㄩ = ㄨ$ + =

$ㄜ + ㄜ = ㄩ + ㄨ$ + = +

$ㄚ - ㄒ = ㄝ$ - =

$ㄨ + ㄒ = ㄑ$ + =

$ㄝ + ㄣ = ㄑ$ + =

$ㄝ + ㄨ = ㄒ$ + =

$二 + 三 = 五$ + =

$五 + 一 = 六$

Слово:

1	2	3	4	5	6	7	8	9	

Задача (3 класс)

Расшифруй примеры и собери слово (все числа от 0 до 10)

ㄩ	ㄨ	ㄜ	ㄑ	ㄒ	ㄝ	ㄚ	ㄒ	ㄣ	ㄨ
									8
И	Р	О	А	«	Т	Е	»	Г	К

$ㄨ + ㄨ = ㄨ$ + =

$ㄩ + ㄩ = ㄨ$ + =

$ㄜ + ㄜ = ㄩ + ㄨ$ + = +

$ㄚ - ㄒ = ㄝ$ - =

$ㄨ + ㄒ = ㄑ$ + =

$ㄝ + ㄣ = ㄑ$ + =

$ㄝ + ㄨ = ㄒ$ + =

$ㄣ + ㄩ = ㄜ$ + =

$ㄜ + ㄩ = ㄚ$ + =

Слово:

1	2	3	4	5	6	7	8	9	10	

Задача (3 класс)

Расшифруй примеры и собери слово (все числа от 0 до 10)

ㄩ	ㄨ	ㄜ	ㄑ	ㄒ	ㄝ	ㄚ	ㄒ	ㄣ	ㄨ
									8
И	Р	О	А	«	Т	Е	»	Г	К

$ㄨ + ㄨ = ㄨ$ + =

$ㄩ + ㄩ = ㄨ$ + =

$ㄜ + ㄜ = ㄩ + ㄨ$ + = +

$ㄚ - ㄒ = ㄝ$ - =

$ㄨ + ㄒ = ㄑ$ + =

$ㄝ + ㄣ = ㄑ$ + =

$ㄝ + ㄨ = ㄒ$ + =

$3 + 2 = 5$

$\square + \square = \square$

$5 + 2 = 7$

$\square + \square = \square$

Слово:

--	--	--	--	--	--	--	--	--	--

1 2 3 4 5 6 7 8 9 10

$3 + 2 = 5$

$\square + \square = \square$

$5 + 2 = 7$

$\square + \square = \square$

Слово:

--	--	--	--	--	--	--	--	--	--

1 2 3 4 5 6 7 8 9 10