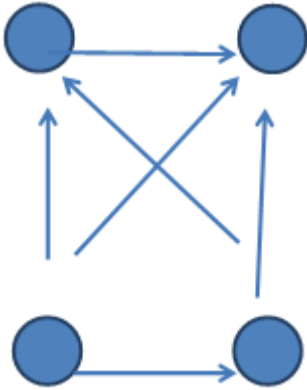


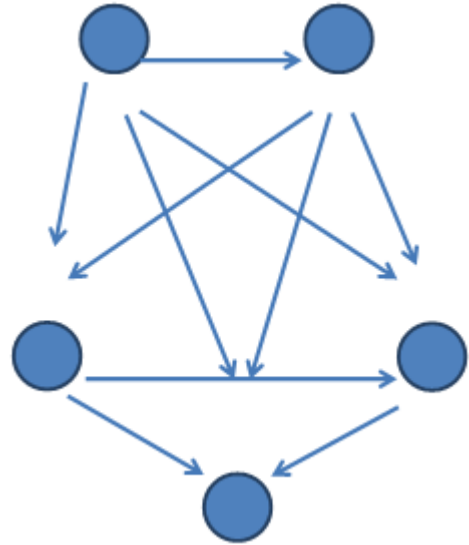
Впишите числа, чтобы стрелочки шли от
большого к меньшему.

28, 13, 31, 40



Впишите числа, чтобы стрелочки шли от
большого к меньшему.

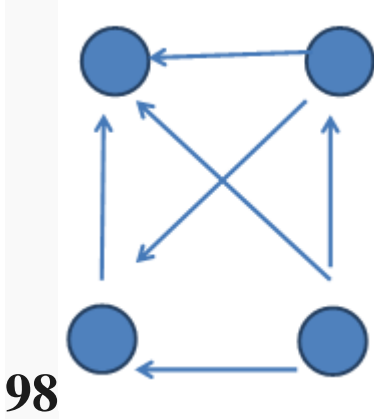
38, 45, 54, 60,



59

Впишите числа, чтобы стрелочки шли от
большого к меньшему.

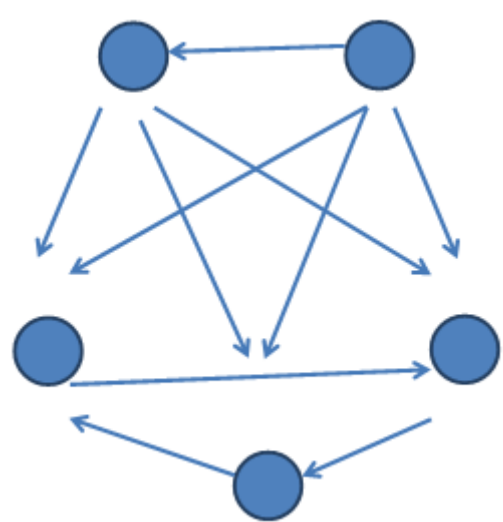
103, 201, 179,



98

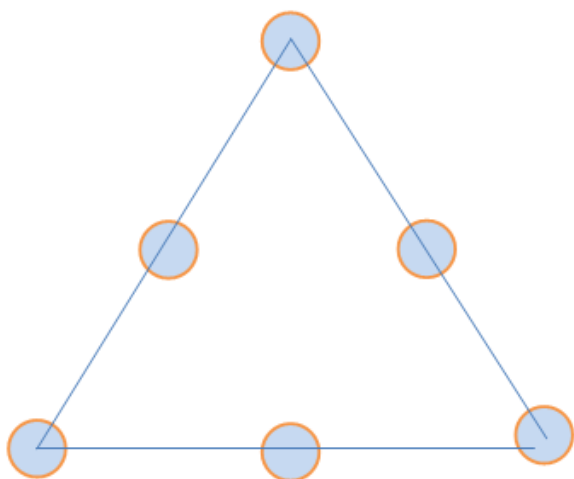
Впишите числа, чтобы стрелочки шли от
большого к меньшему.

56, 48, 84, 90,

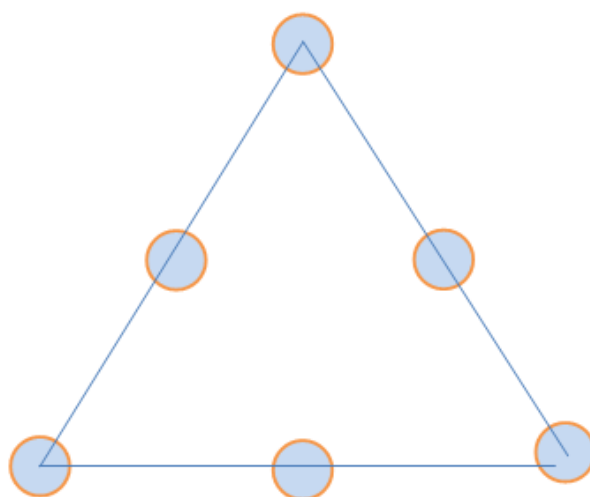


39

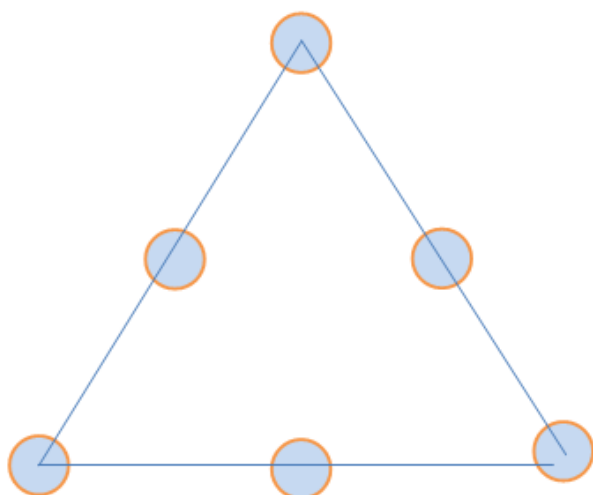
В кругах поместите числа от 11 до 16 так, чтобы сумма чисел на всех сторонах треугольника была одинаковой. Задача имеет три решения.



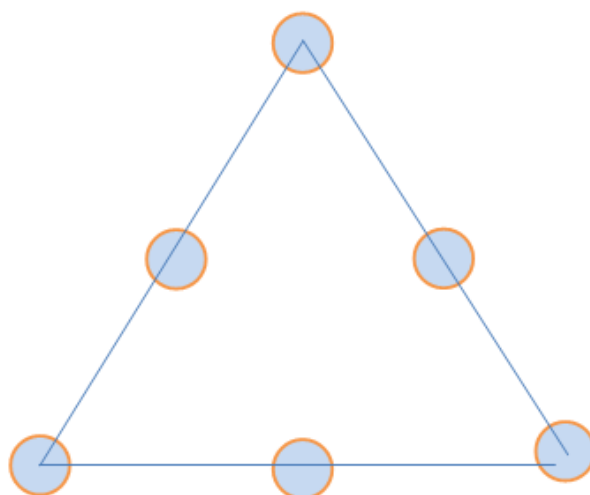
В кругах поместите числа от 11 до 16 так, чтобы сумма чисел на всех сторонах треугольника была одинаковой. Задача имеет три решения.



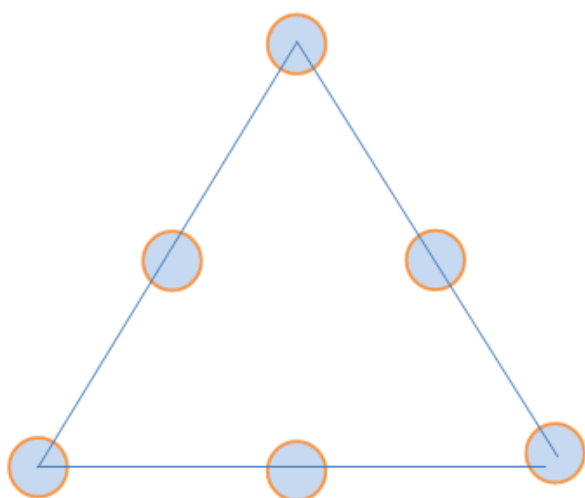
В кругах поместите числа от 11 до 16 так, чтобы сумма чисел на всех сторонах треугольника была одинаковой. Задача имеет три решения.



В кругах поместите числа от 11 до 16 так, чтобы сумма чисел на всех сторонах треугольника была одинаковой. Задача имеет три решения.



В кругах поместите числа от 11 до 16 так, чтобы сумма чисел на всех сторонах треугольника была одинаковой. Задача имеет три решения.



В кругах поместите числа от 11 до 16 так, чтобы сумма чисел на всех сторонах треугольника была одинаковой. Задача имеет три решения.

