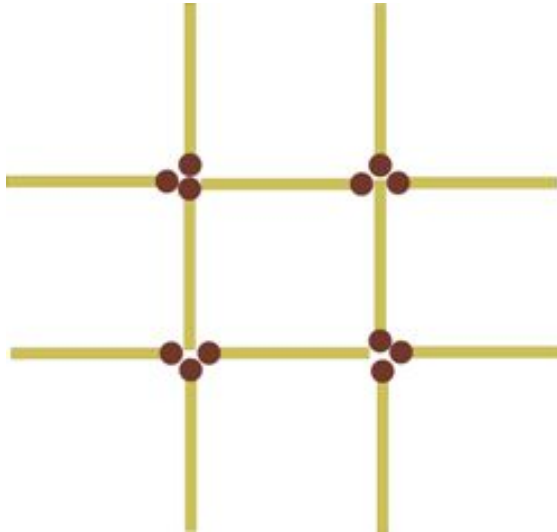


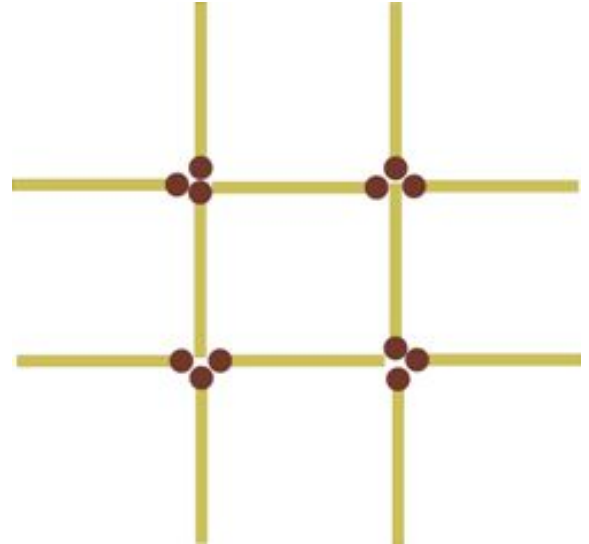
### 1 уровень

Переложите 3 спички так, чтобы получить ровно 3 квадрата:



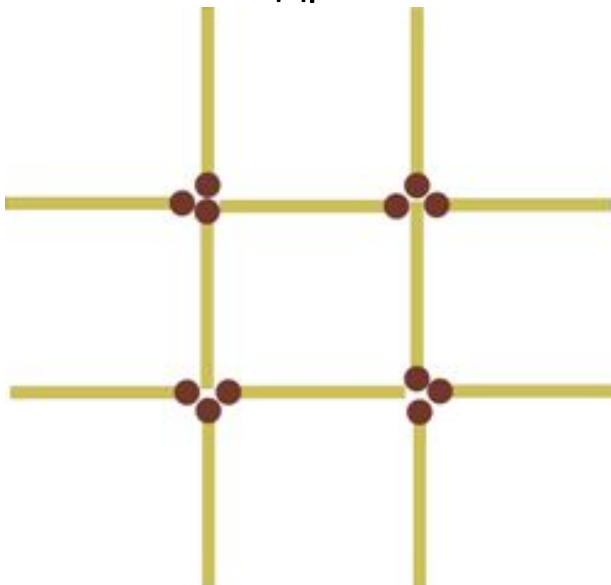
### 1 уровень

Переложите 3 спички так, чтобы получить ровно 3 квадрата:



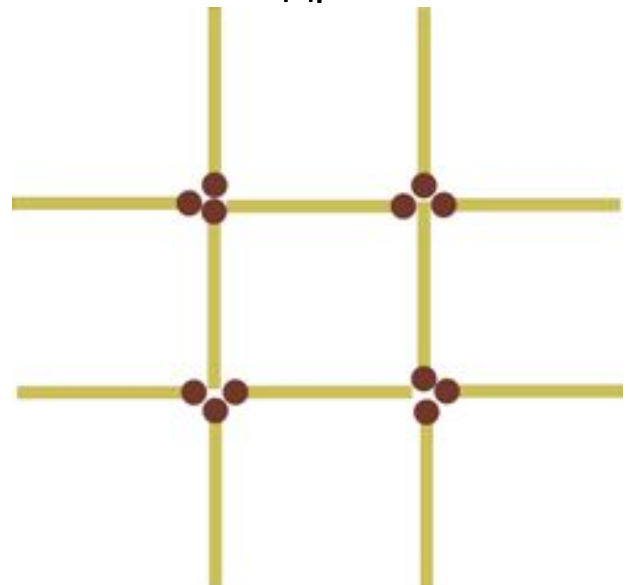
### 1 уровень

Переложите 3 спички так, чтобы получить ровно 3 квадрата:



### 1 уровень


Переложите 3 спички так, чтобы получить ровно 3 квадрата:



**2 уровень:**

Перед вами 24 спички, из которых сделаны 9 одинаковых квадратов.


Необходимо снять 8 спичек так, чтобы осталось 2 квадрата.



**2 уровень:**

Перед вами 24 спички, из которых сделаны 9 одинаковых квадратов.


Необходимо снять 8 спичек так, чтобы осталось 2 квадрата.



**2 уровень:**

Перед вами 24 спички, из которых сделаны 9 одинаковых квадратов.


Необходимо снять 8 спичек так, чтобы осталось 2 квадрата.



**2 уровень:**

Перед вами 24 спички, из которых сделаны 9 одинаковых квадратов.

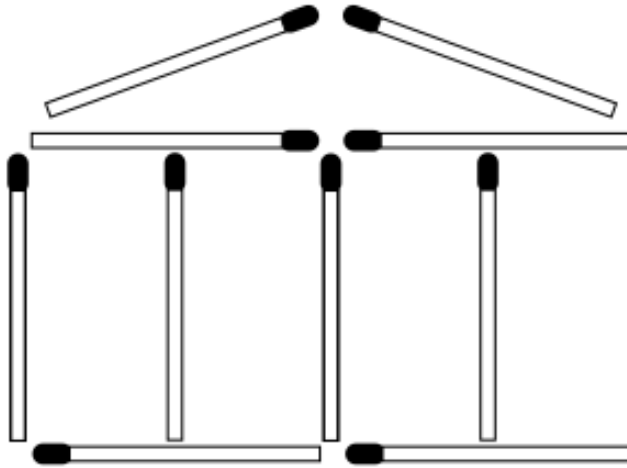
Необходимо снять 8 спичек так, чтобы осталось 2 квадрата.



**3 уровень.**

Этот храм построен из  
одиннадцати спичек:

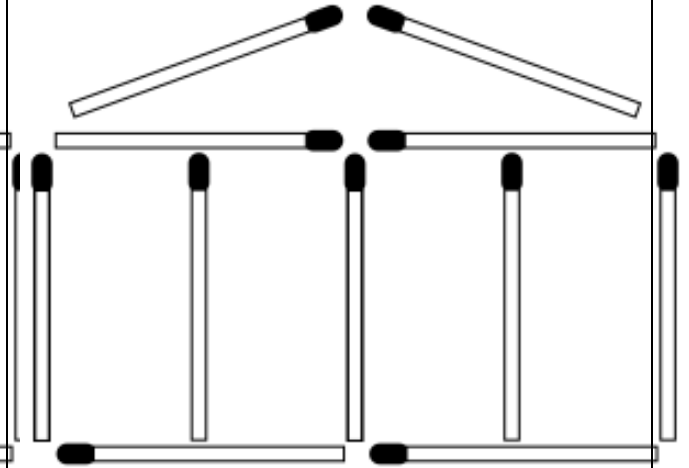
Перемести всего 2  
спички, чтобы получилось  
11 квадратов



**3 уровень.**

Этот храм построен из  
одиннадцати спичек:

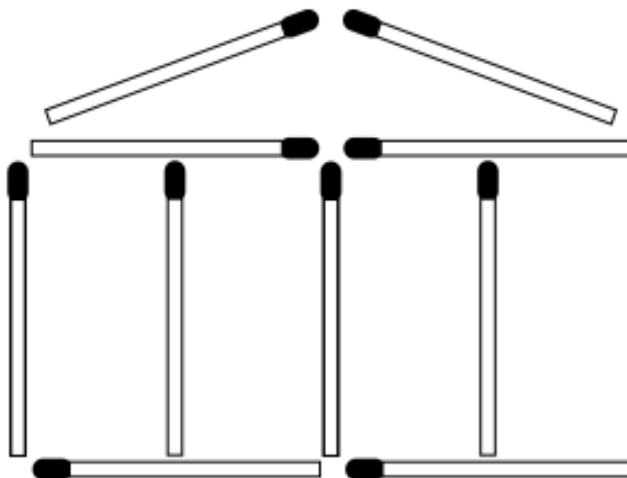
Перемести всего 2  
спички, чтобы получилось  
11 квадратов



**3 уровень.**

Этот храм построен из  
одиннадцати спичек:

Перемести всего 2  
спички, чтобы получилось  
11 квадратов



**3 уровень.**

Этот храм построен из  
одиннадцати спичек:

Перемести всего 2  
спички, чтобы получилось  
11 квадратов

