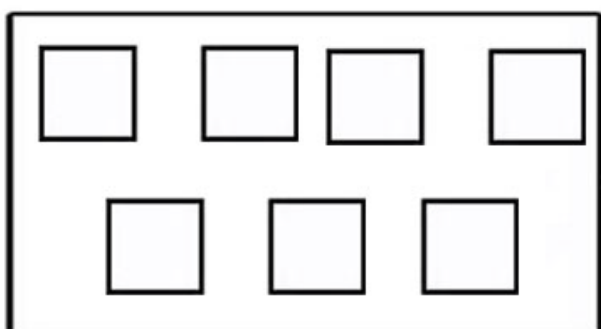
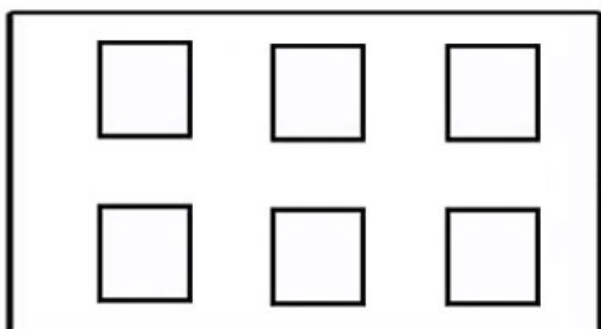
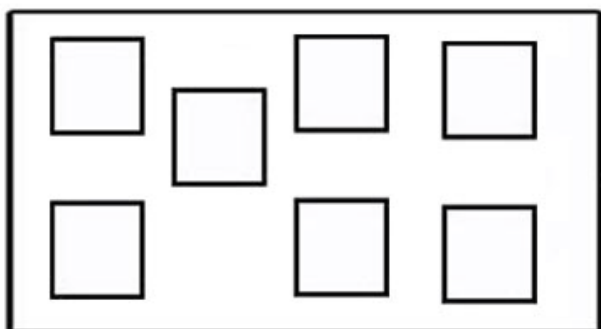
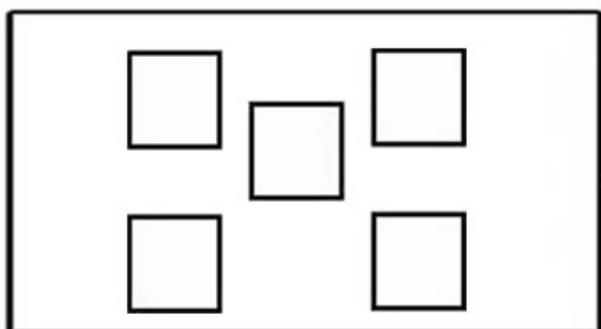


<p>Сложность **</p> <p>У Саши, Лени, Эдика вместе 28 гривен. У Саши денег в 2 раза больше, чем у Эдика, а у Эдика в 2 раза больше, чем у Лени.</p> <p>Сколько денег у Эдика?</p>	<p>Сложность ***</p> <p>Старая дама завещала половину своего состояния в банке дочери, а половину от этой суммы - сыну. Брату она оставила шестую часть состояния, а остаток 1000£ завещала приюту для собак.</p> <p>Какова была общая сумма завещания?</p>
<p>Сложность *</p> <p>Какое число нужно поставить вместо знака?</p> <p>100, 99, 96, 91, 84, 75, ?</p>	<p>Сложность *</p> <p>Добавьте 3 спички, чтобы получилась цифра 9.</p> <p>IV</p>
<p>Сложность ***</p> <p>Пообедав в лондонском ресторане, вы оставили 10% от данной суммы счета на чаевые, а потом еще дали на чай 2 фунта (£) водителю такси. Если проезд в такси стоил половину суммы счета за обед, и у вас в итоге осталось 20 фунтов (£), то сколько стоил обед?</p>	<p>Сложность ***</p> <p>Джейн продает гитару через интернет-аукцион. Она должна заплатить на сайте 3 фунта за размещение объявления и еще 10% комиссионных от финальной цены за продажу. Покупатель заплатил 25 фунтов, включая 6 фунтов за упаковку и почтовое отправление. Гитару Джейн покупала за 20 фунтов.</p> <p>Сколько она потеряла на сделке?</p>

Нарисуй в прямоугольнике
справа столько же кругов,
сколько квадратов слева.

Дата: _____

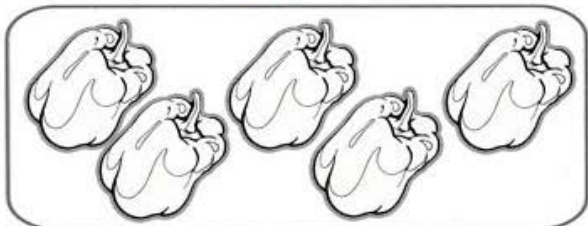
Имя: _____



Расставь знаки $><=$.
Впиши в клетки нужные
числа.

Дата: _____

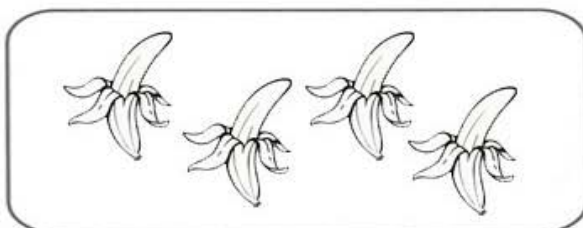
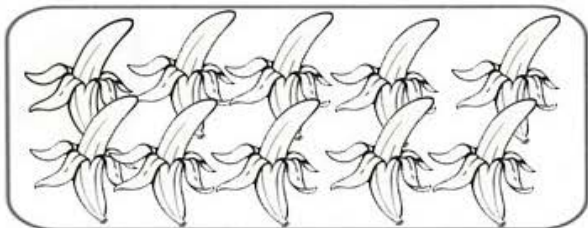
Имя: _____



--	--





--	--



--	--



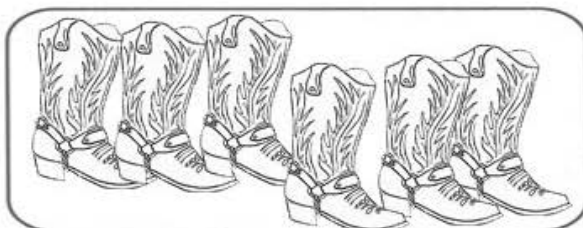
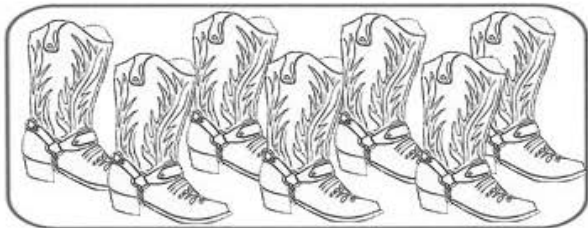
--	--



--	--



--	--



--	--

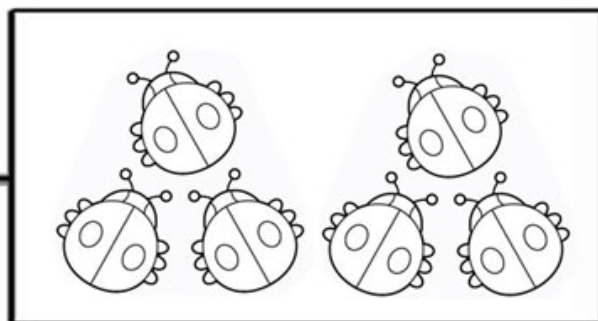
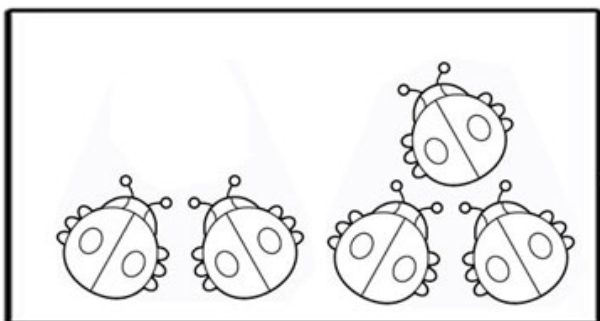


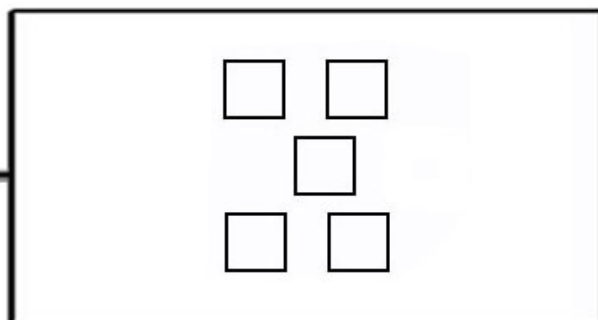
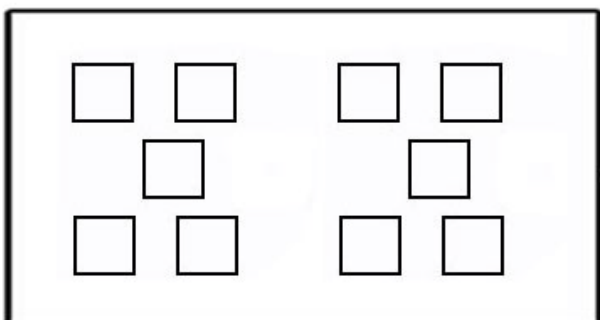
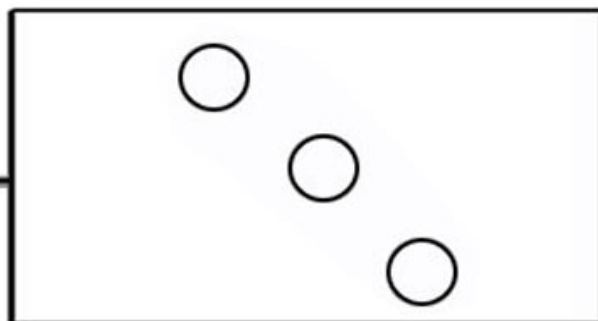
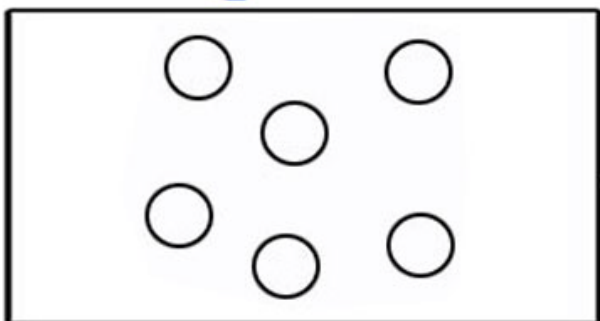


--	--

Назови количество предметов слева, назови справа. Сделай так, чтобы было поровну. (Дорисуй необходимое кол-во)

Дата: _____

Имя: _____



Напиши цифры от 1 до 10,
начиная с самого маленького
котенка до самого большого.

Дата: _____

Имя: _____

